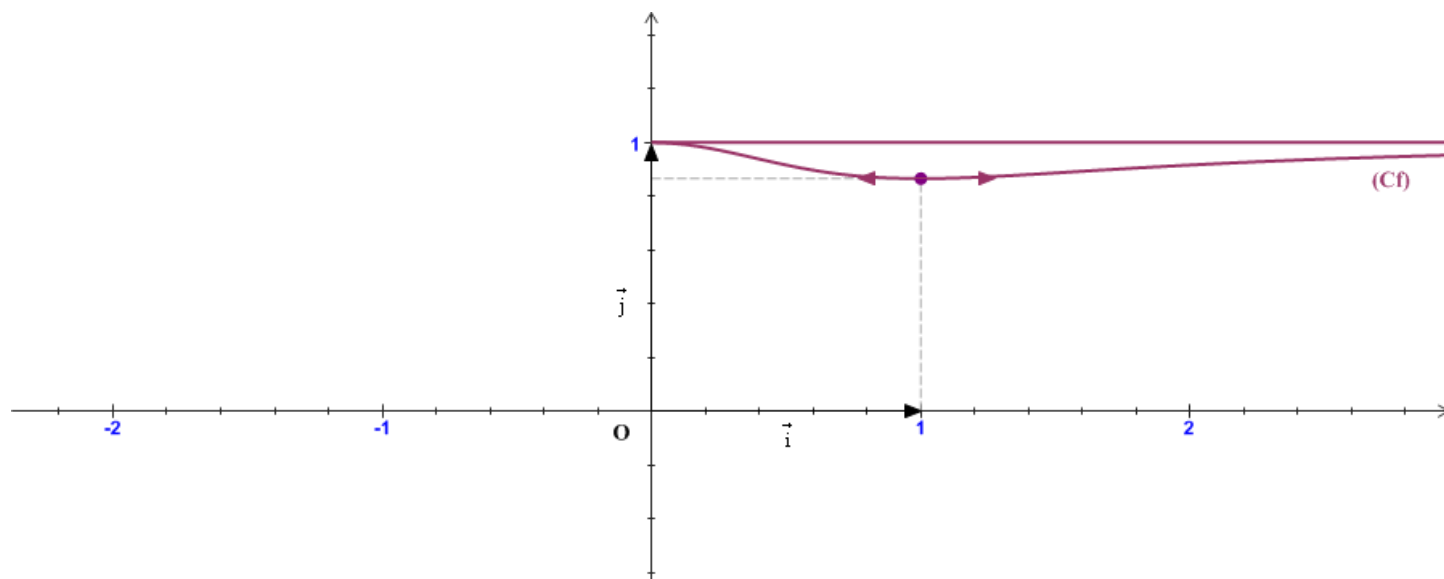


**Exercice n°1 : ©**

On considère la fonction  $f$  définie sur  $\mathbb{R}$  de la façon suivante :

$$\begin{cases} 1 & \text{si } x \leq -2 \\ -x & \text{si } -2 < x \leq -1 \\ x^2 & \text{si } -1 < x \leq 0 \\ 0 & \text{si } x > 0 \end{cases}$$

1. Tracer la courbe représentative de  $f$  dans un repère orthonormé  $(O, \vec{i}, \vec{j})$ .
2. Utiliser le graphique pour répondre aux questions suivantes :
  - a) Etudier la continuité de  $f$  en  $-2$ .
  - b)  $f$  est elle continue en  $-1$  ?
  - c) Sur quels intervalles  $f$  est elle continue ?
  - d) Déterminer les images par  $f$  de chacun des intervalles suivants :  $] -\infty, -1]$  et  $[-1, +\infty[$ .
  - e) Pour quelles valeurs de  $k$ , l'équation  $f(x) = k$  admet elle des solutions ?

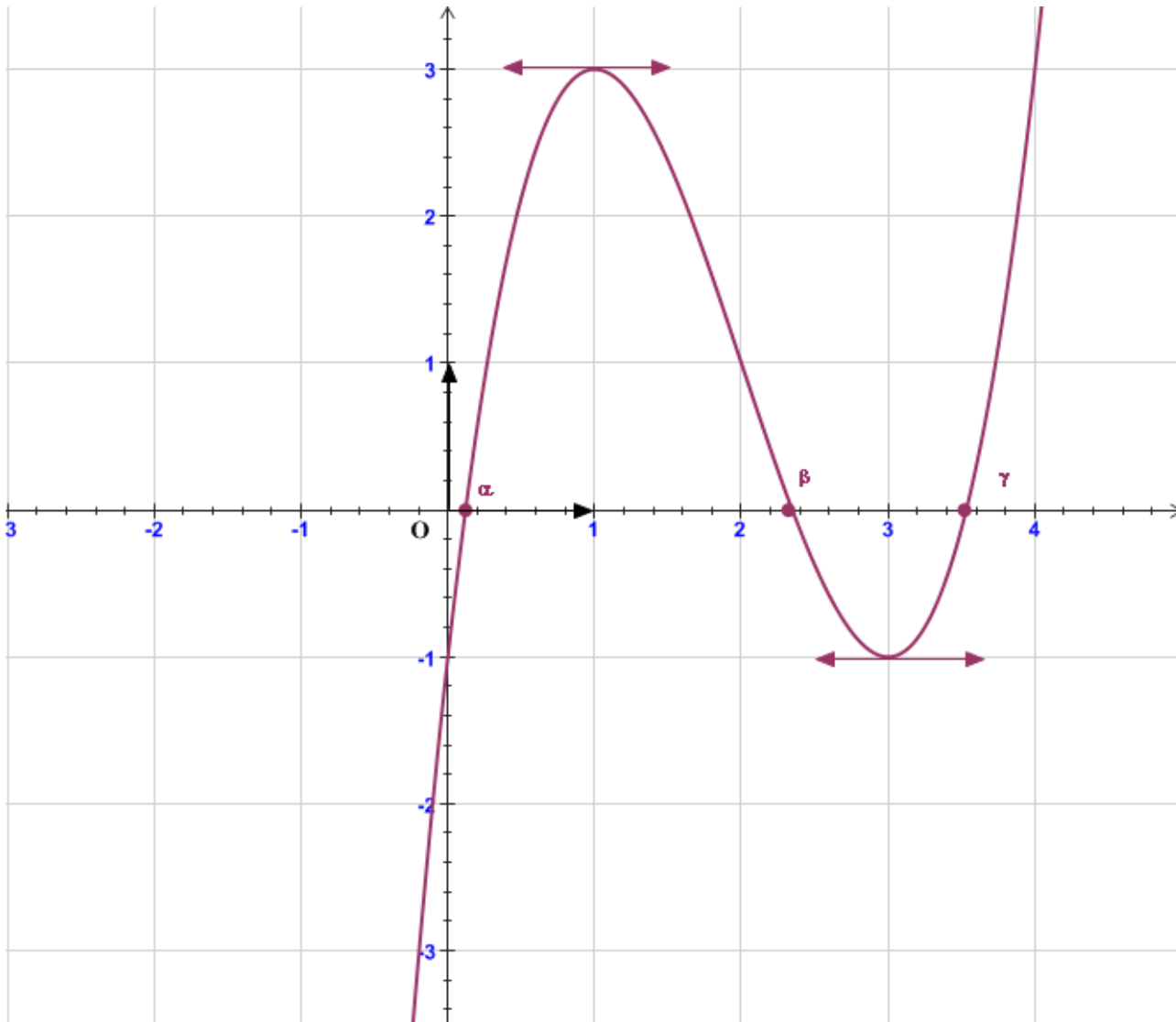
**Exercice n°2 : ©**

Soit  $f$  la fonction définie par  $f(x) = \frac{\sqrt{x^4 + x^2 + 1}}{x^2 + 1}$ .

1. Déterminer l'ensemble de définition de  $f$ .
2. Justifier la continuité de  $f$  sur son domaine de définition.
3. Etudier la parité de  $f$  ; puis compléter sa courbe représentative dans le repère ci - dessus :

4. a) Montrer que  $f$  admet un maximum en 0.
  - b) Montrer que  $f$  admet un minimum  $m = \frac{\sqrt{3}}{2}$ .
5. Déterminer  $f(\mathbb{R})$ .

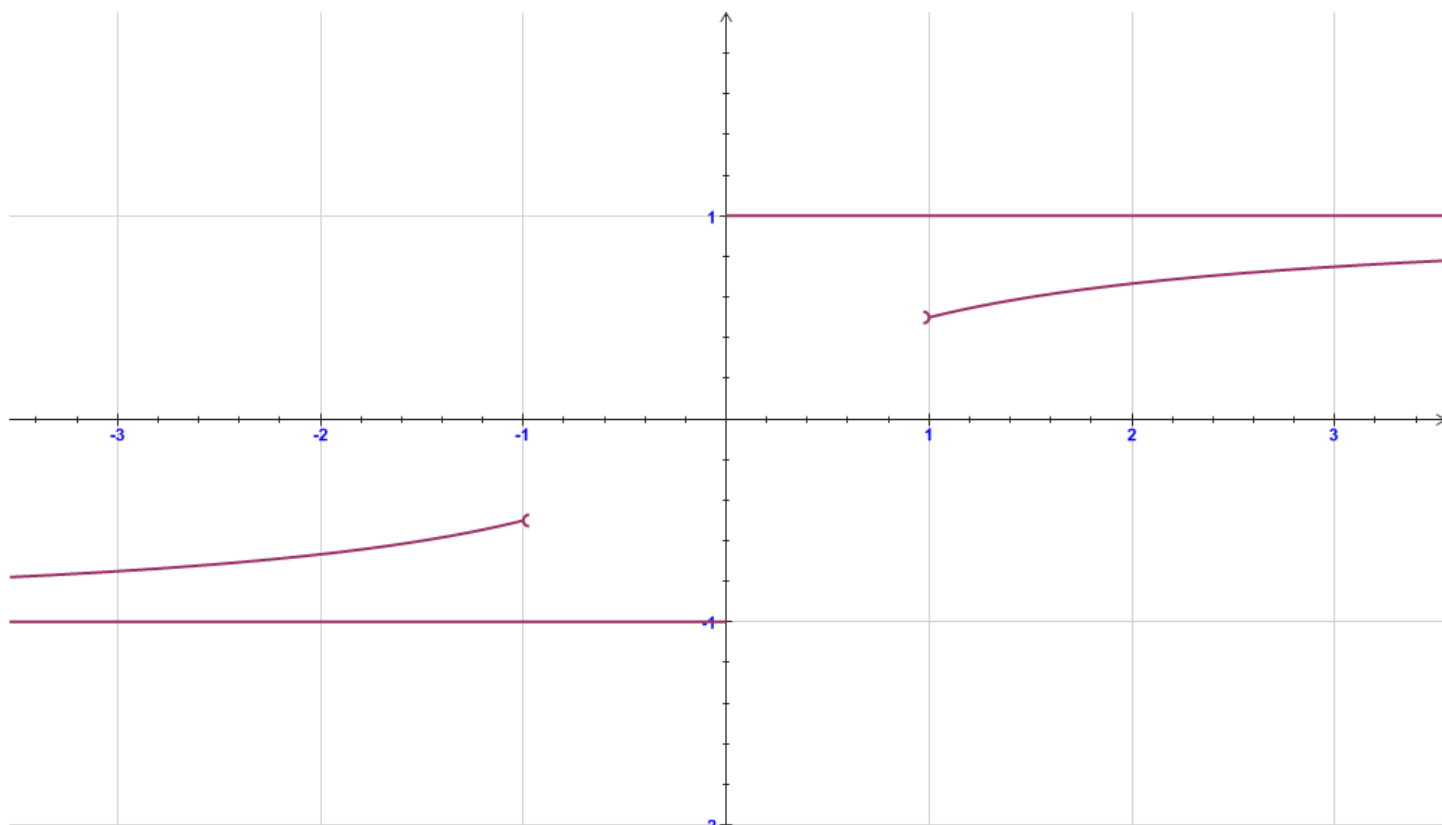
### Exercice n°3 :



Dans le plan muni d'un repère  $(O, \vec{i}, \vec{j})$ , on a représenté la fonction  $f$  définie sur  $\mathbb{R}$  par  $f(x) = x^3 - 6x^2 + 9x - 1$ .

1. Justifier la continuité de  $f$  sur  $\mathbb{R}$ .
2. Montrer que l'équation  $f(x) = 0$  admet au moins une solution sur chacun des intervalles  $[0,1]$  ;  $[2,3]$  et  $[3,4]$ .
3. a) Montrer que l'équation  $f(x) = 0$  admet exactement trois solutions réelles distinctes qu'on notera par  $\alpha$  ,  $\beta$  et  $\gamma$  .
- b) Vérifier que  $0.1 < \alpha < 0.2$  ;  $2.3 < \beta < 2.4$  et  $3.5 < \gamma < 3.6$ .
4. Donner à partir du graphique le signe de  $f(x)$  suivant les valeurs de  $x$  .
5. Déterminer à partir du graphique les images par  $f$  de chacun des intervalles :  $]-\infty, 0]$  et  $[\alpha, \gamma]$ .

### Exercice n°4 :



On considère la fonction  $f$  définie sur  $\mathbb{R}$ , telle que :

\*  $f(x) = \frac{x}{1+|x|}$  si  $x \in ]-\infty, -1[ \cup ]1, +\infty[$ .

\* La restriction de  $f$  à  $[-1, 1]$  est une fonction affine.

\*  $f$  est continue sur  $\mathbb{R}$ .

\* Sa restriction aux intervalles  $]-\infty, -1[$  et  $]1, +\infty[$  est représentée dans le repère ci-dessus.

1. Compléter la représentation graphique de  $f$ .
2. Donner l'expression de  $f(x)$  pour tout réel  $x$ .
3. Etudier la parité de  $f$ .
4. Montrer que  $f$  est croissante sur  $\mathbb{R}$ .
5. a) Montrer que pour tout réel  $x$ , on a :  $-1 < f(x) < 1$ .  
b) Déterminer  $f(\mathbb{R})$ .

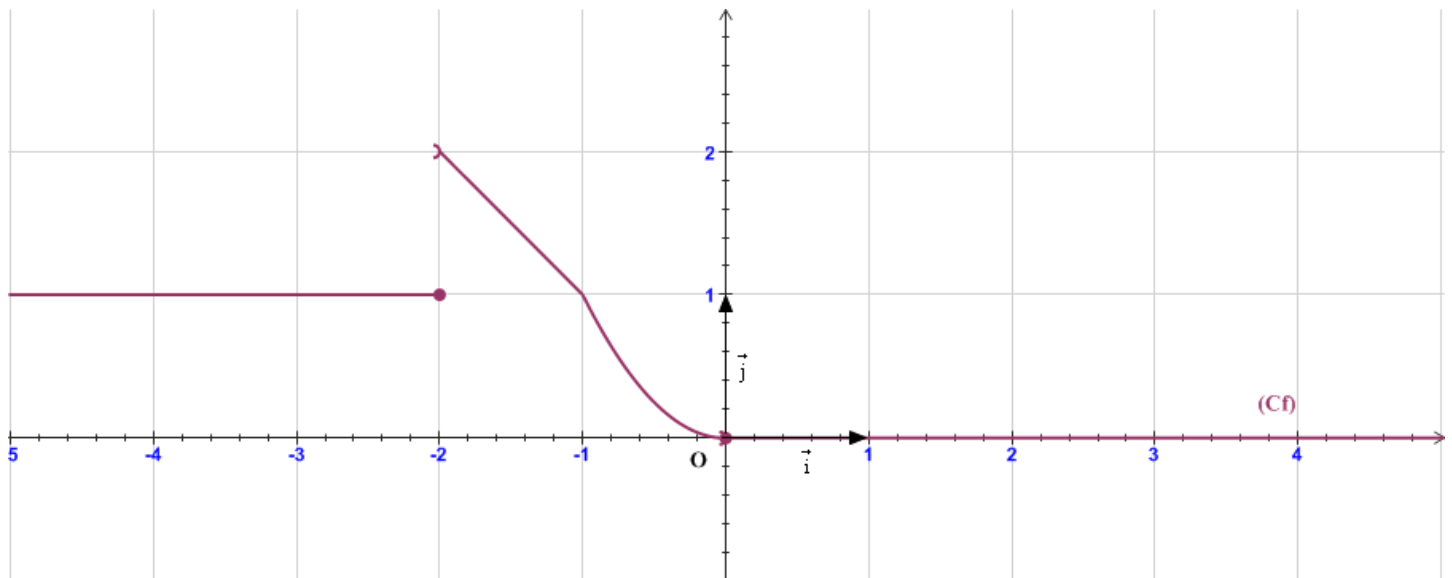
### Exercice n°5 : ©

Soit  $f$  une fonction définie et continue sur  $[0, 1]$  et à valeurs dans  $[0, 1]$ .  
Montrer que l'équation  $f(x) = x$  admet au moins une solution sur  $[0, 1]$ .

**Exercice n°1 :**

$$f(x) = \begin{cases} 1 & \text{si } x \leq -2 \\ -x & \text{si } -2 < x \leq -1 \\ x^2 & \text{si } -1 < x \leq 0 \\ 0 & \text{si } x > 0 \end{cases}$$

1. Représentation graphique :

2. a) Continuité de  $f$  en  $-2$  :

$f$  est continue à gauche en  $-2$ , mais  $f$  est discontinue à droite en  $-2$  donc  $f$  est discontinue en  $-2$ .

b)  $f$  est continue en  $-1$ .

c)  $f$  est continue sur chacun des intervalles  $]-\infty, -2]$  et  $]-2, +\infty[$ .

d)  $f(]-\infty, -1]) = [1, 2[$  ;  $f(]-1, +\infty[) = [0, 1]$ .

e) L'équation  $f(x) = k$  admet des solutions lorsque  $k \in [0, 2[$ .

**Exercice n°2 :**

$$f(x) = \frac{\sqrt{x^4 + x^2 + 1}}{x^2 + 1}$$

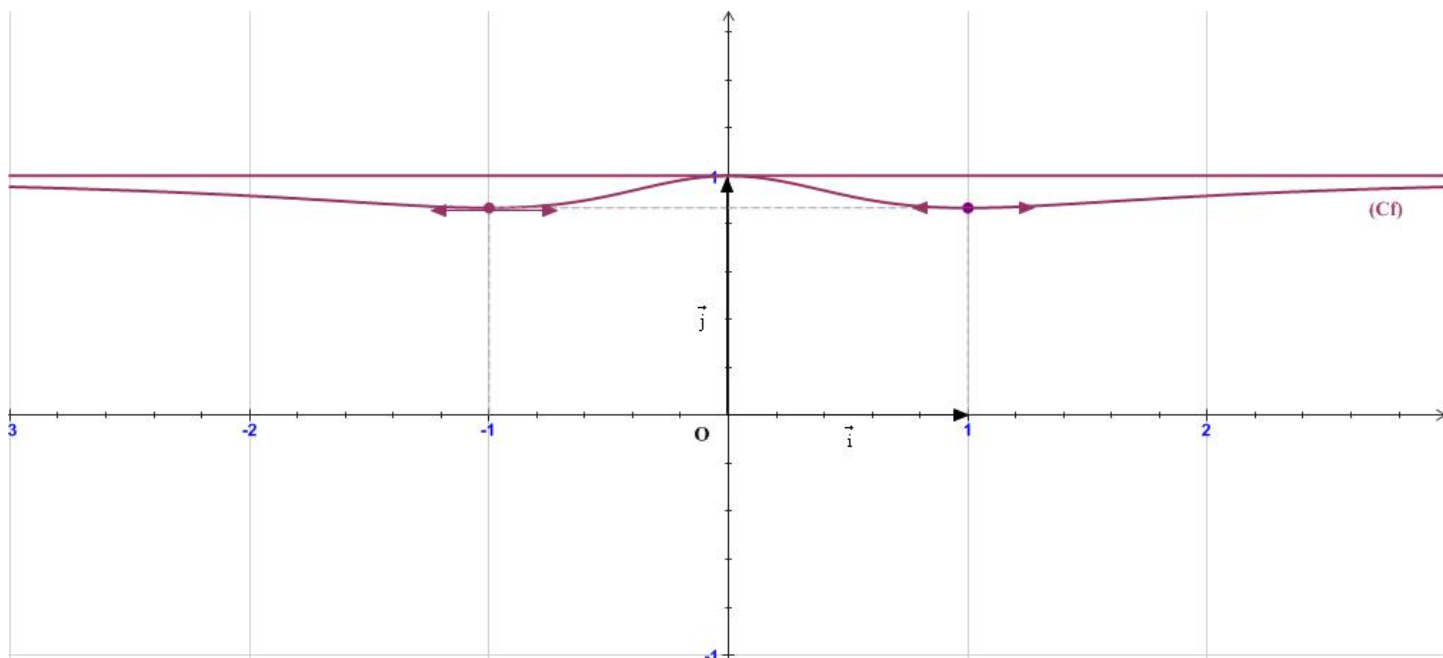
1.  $x^4 + x^2 + 1 \geq 1 > 0, \forall x \in \mathbb{R}$  et  $x^2 + 1 \neq 0, \forall x \in \mathbb{R} \Rightarrow D_f = \mathbb{R}$ .

2. Continuité de  $f$  sur  $\mathbb{R}$  :

$\left(x \mapsto x^4 + x^2 + 1\right)$  est continue et positive sur  $\mathbb{R}$ , comme étant une fonction polynôme  $\Rightarrow \sqrt{u}$  est continue sur  $\mathbb{R}$ .

$\left(x \mapsto x^2 + 1\right)$  est continue et non nulle sur  $\mathbb{R} \Rightarrow f = \frac{\sqrt{u}}{v}$  est continue sur  $\mathbb{R}$ .

3. Soit  $x \in \mathbb{R}$ ,  $-x \in \mathbb{R}$  et on a :  $f(-x) = \frac{\sqrt{(-x)^4 + (-x)^2 + 1}}{(-x)^2 + 1} = \frac{\sqrt{x^4 + x^2 + 1}}{x^2 + 1} = f(x) \Rightarrow f$  est une fonction paire.  
 (C<sub>f</sub>) est symétrique par rapport à l'axe des ordonnées.



4. a) Montrons que pour tout réel  $x$ , on a :  $f(x) \leq f(0)$ .

Puisque  $f(0) = 1$ , donc il suffit de montrer que :  $\sqrt{x^4 + x^2 + 1} \leq x^2 + 1$

$$\left(\sqrt{x^4 + x^2 + 1}\right)^2 - (x^2 + 1)^2 = x^4 + x^2 + 1 - x^4 - 2x^2 - 1 = -x^2 \leq 0, \forall x \in \mathbb{R}$$

$$\Rightarrow \left(\sqrt{x^4 + x^2 + 1}\right)^2 \leq (x^2 + 1)^2 \Rightarrow \sqrt{x^4 + x^2 + 1} \leq x^2 + 1 \Rightarrow \frac{\sqrt{x^4 + x^2 + 1}}{x^2 + 1} \leq 1$$

Ainsi : 1 est un maximum de  $f$  en 0.

- b) Montrons que pour tout réel  $x$ , on a :  $f(x) \geq \frac{\sqrt{3}}{2}$ .

$$\left[f(x)\right]^2 - \left(\frac{\sqrt{3}}{2}\right)^2 = \frac{x^4 + x^2 + 1}{x^4 + 2x^2 + 1} - \frac{3}{4} = \frac{4x^4 + 4x^2 + 4 - 3x^4 - 6x^2 - 3}{4(x^4 + 2x^2 + 1)} = \frac{x^4 - 2x^2 + 1}{4(x^4 + 2x^2 + 1)} = \frac{(x^2 - 1)^2}{4(x^2 + 1)^2} \geq 0$$

$$\Rightarrow f(x) \geq \frac{\sqrt{3}}{2}, \forall x \in \mathbb{R}$$

Ainsi :  $\frac{\sqrt{3}}{2}$  est un minimum de  $f$  en 1 et -1.

5.  $f(\mathbb{R}) = [\min f, \max f] = \left[\frac{\sqrt{3}}{2}, 1\right]$ .

### Exercice n°5 :

$f$  une fonction définie et continue sur  $[0,1]$  et à valeurs dans  $[0,1]$ .

On pose  $g(x) = f(x) - x$ .

- $g$  est continue sur  $[0, 1]$ , comme étant somme de deux fonctions continues.
- $g(0) = f(0) \geq 0$  et  $g(1) = f(1) - 1 \leq 0$  car  $f([0, 1]) = [0, 1]$   
D'après le théorème des valeurs intermédiaires, on a : l'équation  $g(x) = 0$  admet aux moins une solution dans  $[0, 1]$ .  
 $g(x) = 0 \Leftrightarrow f(x) = x$ .