

GESTION : DEVOIR DE SYNTHÈSE N°1

Durée : 2 heures

*Les copies devront être soignées et les fautes d'orthographe corrigées (la note tiendra compte de la présentation).
Aucune question ne sera posée pendant le devoir.
Attention, il y a quelques pièges... À vous de bien lire l'énoncé.*

PARTIE 1 :

L'entreprise industrielle P'TIT ANGE (Société Anonyme au capital de 600 000 dinars) fabrique et commercialise des vêtements pour bébés en tissu imprimé.

1- Quelle est la nature de l'activité et la forme juridique de l'entreprise P'TIT ANGE ?

Nature de l'activité : _____

Forme juridique : _____

2- Cochez la bonne affirmation.


Le tissu représente pour l'entreprise :

- des matières premières
- des marchandises
- des produits finis

Les vêtements pour bébés représentent pour l'entreprise :

- des matières premières
- des marchandises
- des produits finis

3- Indiquez les différents types de flux pouvant exister entre l'entreprise P'TIT ANGE et les deux partenaires ci-dessous.



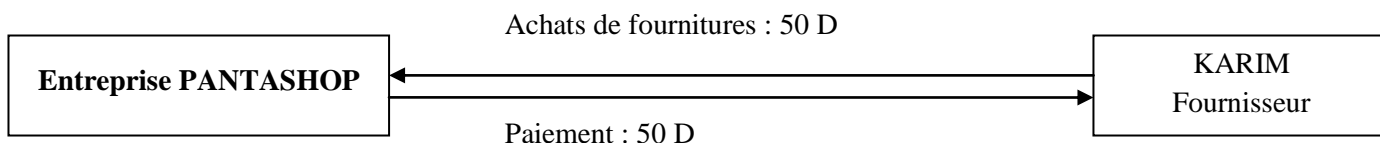
4- Indiquez sur le schéma, avec la couleur verte, les flux financiers.

PARTIE 2 :

Vous êtes stagiaire dans la société PANTASHOP, entreprise tunisoise qui commercialise des vêtements pour hommes.

1- Indiquez la nature et le montant des flux concernant la société PANTASHOP (voir exemple ci-dessous) puis effectuez l'analyse en terme d'emplois-ressources (Chez PANTASHOP).

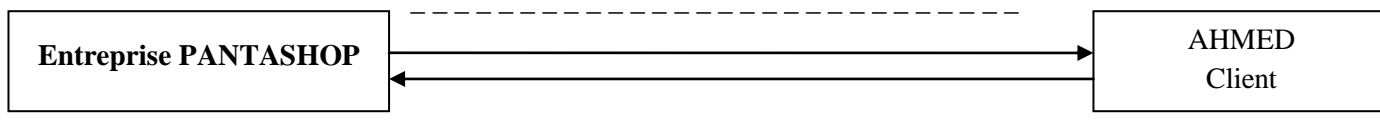
- Achats de fournitures de bureau au fournisseur KARIM payés en espèces 50 D.



Emploi : _____

Ressource : _____

- Vente de 100 D de marchandises à AHMED. Facture n° 977 payable dans 30 jours par chèque.



Emploi : _____

Ressource : _____

2- Enregistrez les opérations suivantes au journal de l'entreprise PANTASHOP :

- Le 02/03/2010 : Achats de 500 D de marchandises au fournisseur BEN MOHAMED à crédit (Facture n° 300).
- Le 02/04/2010 : Paiement de la dette du fournisseur BEN MOHAMED par chèque bancaire n° 420302.

--	--	--	--

PARTIE 3 :

Voici les comptes de l'entreprise ABC pour novembre 2010 :

<i>Capital</i>		<i>Banques</i>		<i>Achats de marchandises</i>	
	25 000,000	25 000,000	3 000,000	10 000,000	
		5 000,000	2 000,000	100,000	
		15 000,000	7 000,000	2 000,000	
			5 000,000	20 000,000	
			1 000,000		

<i>Fournisseurs</i>		<i>Ventes de marchandises</i>		<i>Clients</i>	
3 000,000	10 000,000		20 000,000	3 000,000	100,000
5 000,000	20 000,000			20 000,000	500,000

1- Arrêtez les comptes de façon à faire apparaître le solde (à faire sur la feuille d'énoncé).

2- Quel est le montant disponible à la banque le 30/11 ?

3- Quel est le montant des créances envers les clients le 30/11 ?

4- Quel est le montant des dettes envers les fournisseurs le 30/11 ?

