
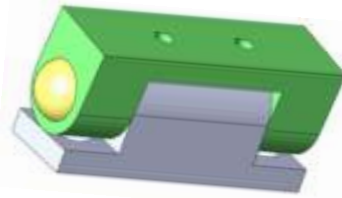


Non : ..... Prénom : ..... N° : ..... Note : ..... /20

**Système d'étude : Paumelle.**



**Chape supérieure**

**Exercice n°1 : (2pts)**

Cocher par une croix la bonne réponse :

- La chape supérieure est une pièce : **(1pts)**

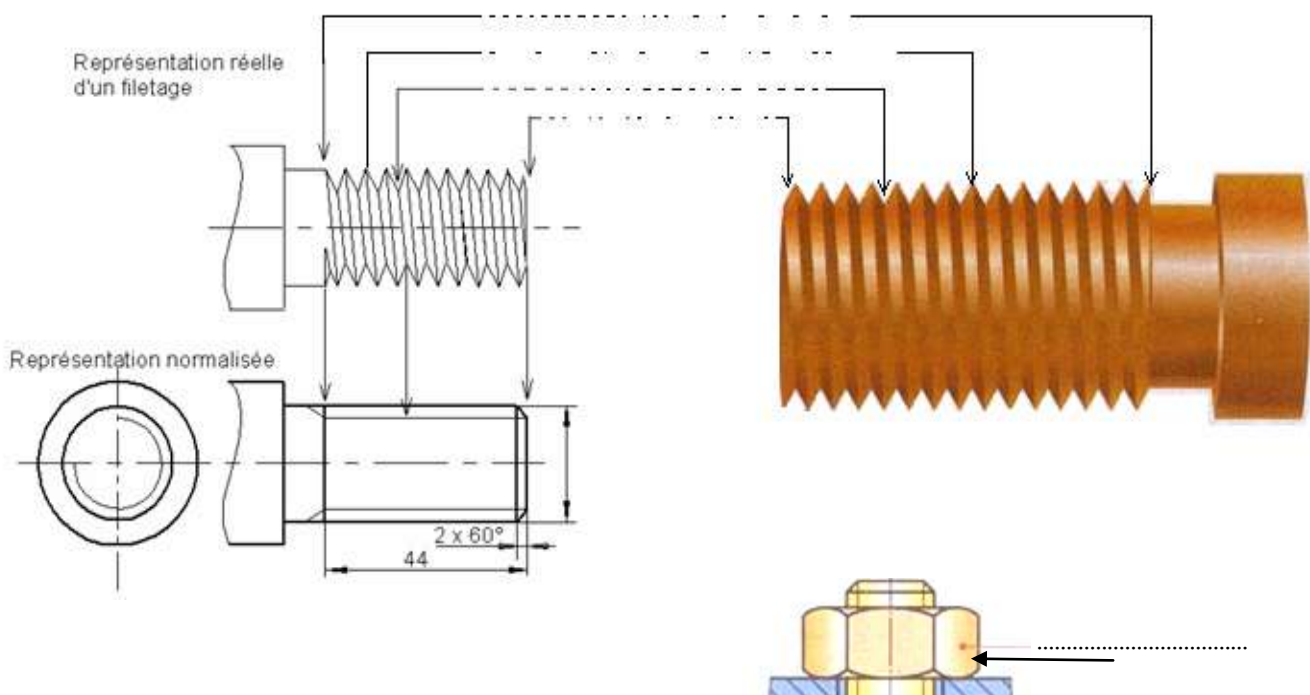
<input type="checkbox"/>	Cylindrique
<input type="checkbox"/>	Prismatique

-Les formes usinées sur la chape supérieur : **(1pts)**

<input type="checkbox"/>	Trou
<input type="checkbox"/>	Epaulement
<input type="checkbox"/>	Rainure en U
<input type="checkbox"/>	Chanfrein

**Exercice n°2 : (7.5pts)**

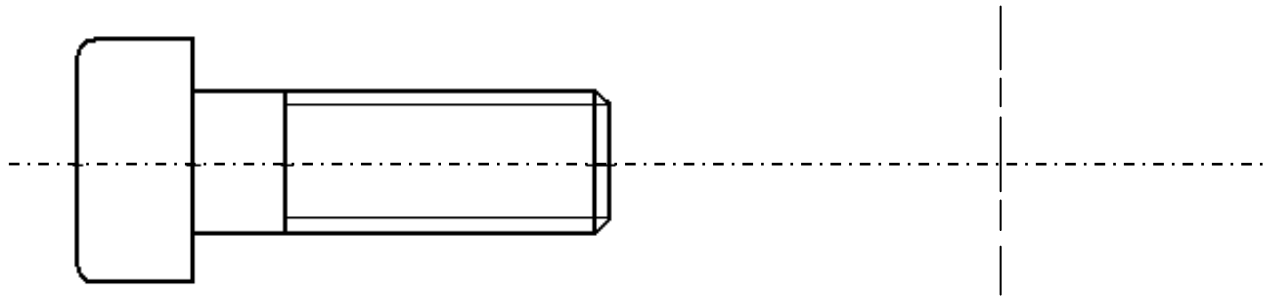
a- Désigner les éléments indiqués par les flèches. **(2.5pts)**  
(Bout de la vis, fin de filetage, tête de filet, fond de filet ,écrou )



b-Compléter la vue de gauche de la vis suivante. **[2pts]**

c-Coter la longueur de filetage et le diamètre de la vis représentée à l'échelle 1/1. **[2pts]**

d-Compléter la désignation de la vis CHC M.....-..... **[1pt]**



**Exercice n°3 : (10.5pts)**

❖ Compléter sur le dessin ce dessous :

- -la charnière.
- -La Vue de face.
- -La Vue de droite.
- -La Vue de dessus.
- -Coter la rainure en U sur la vue de face.

